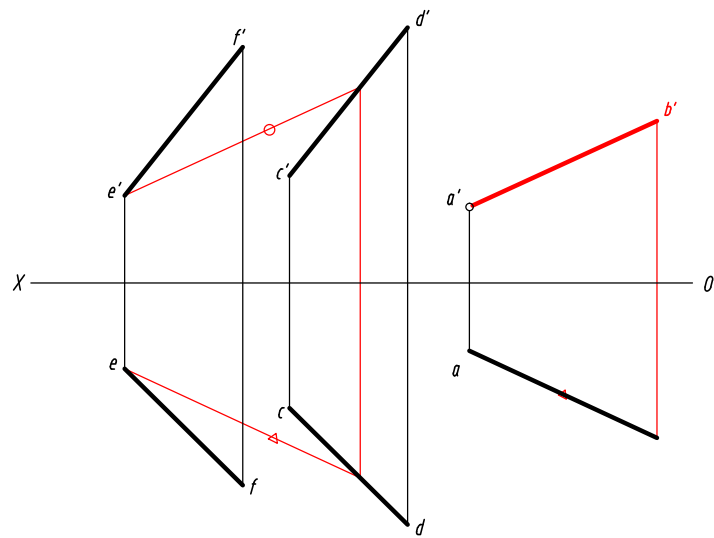
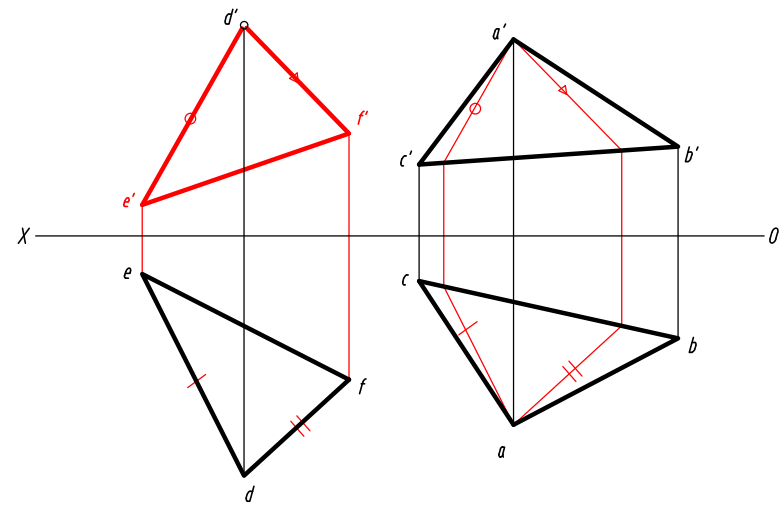


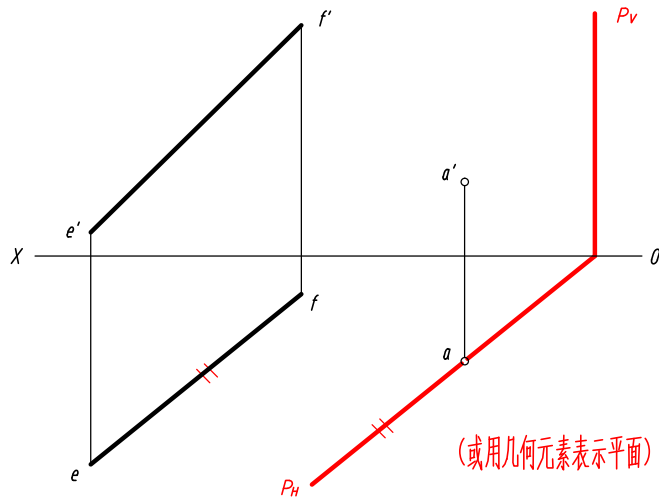
3-5 已知直线 AB 平行于平面 $(CD//EF)$, 完成 AB 的 V 面投影。



3-6 已知 $\triangle DEF$ 平面平行于 $\triangle ABC$ 平面, 完成 $\triangle DEF$ 平面的 V 面投影。



3-7 过点 A 作铅垂面平行于已知直线 EF 。



3-8 过点 K 作一平面, 使其平行于已知直线 AB 和 CD 。

