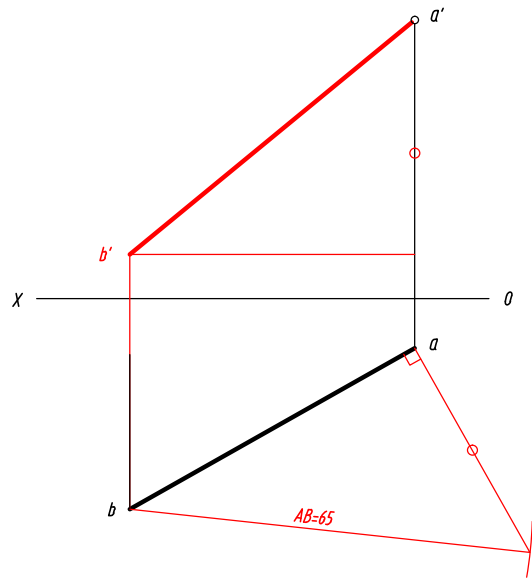
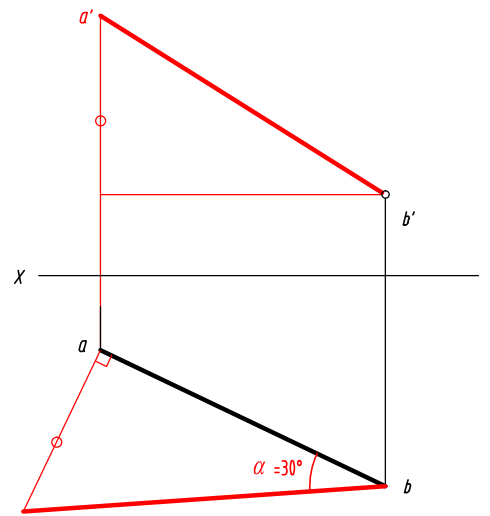


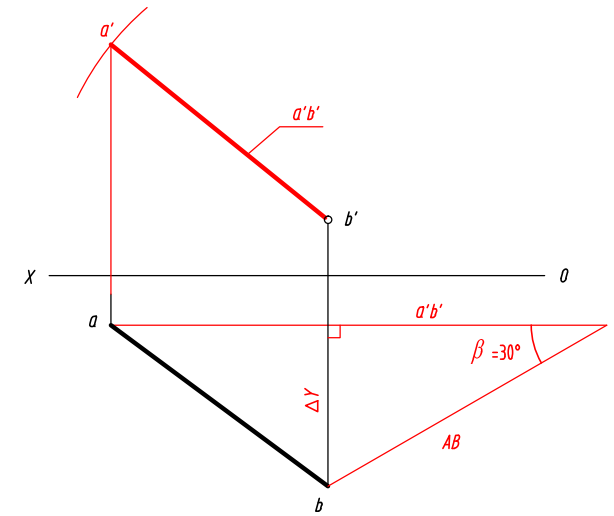
2-14 已知直线AB的实长为65，完成其正面投影。



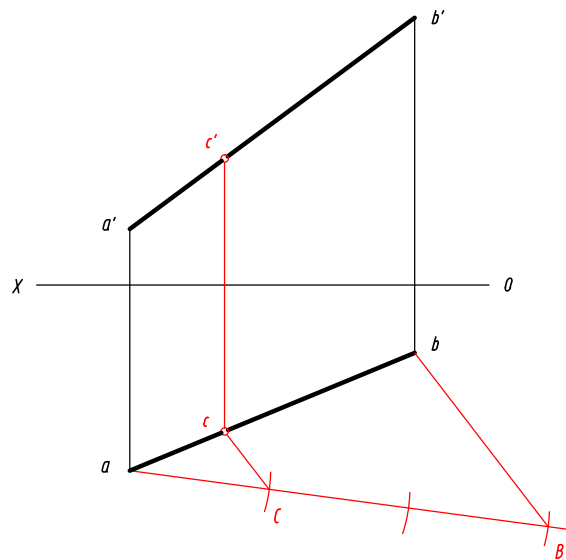
2-15 已知直线AB的对H面的倾角 $\alpha = 30^\circ$ ，完成其正面投影。



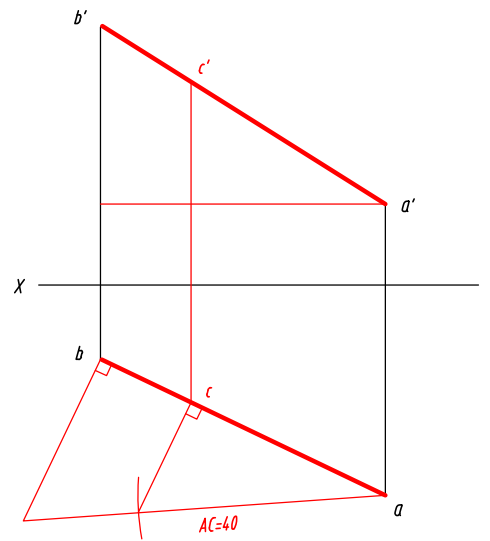
2-16 已知直线AB的对V面的倾角 $\beta = 30^\circ$ ，完成其正面投影。



2-17 在线段AB上找一点C，使 $AC : CB = 1 : 2$ 。



2-18 在直线AB上找一点C，使 $AC = 40$ 。



2-19 在直线AB、CD上作对H面的垂重点M、N和对V面的垂重点E、F的两面投影。

